



Prénom & Nom :


Date :

je me réentraîne T1


La table par 2

① COLORIE les cases pour obtenir le résultat.

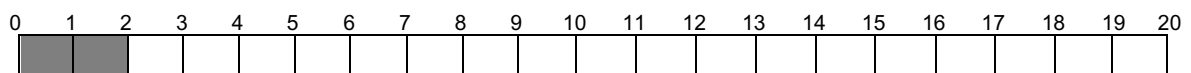
$2 \times 4 = \underline{\hspace{2cm}}$



$2 \times 7 = \underline{\hspace{2cm}}$



$2 \times 9 = \underline{\hspace{2cm}}$

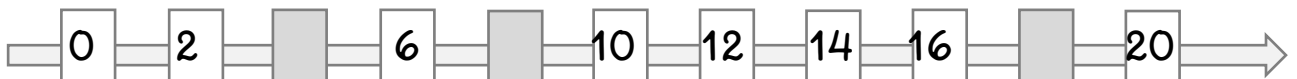


② CALCULE.

$0 \times 2 = \underline{\hspace{1cm}} \quad 1 \times 2 = \underline{\hspace{1cm}} \quad 2 \times 2 = \underline{\hspace{1cm}} \quad 3 \times 2 = \underline{\hspace{1cm}} \quad 4 \times 2 = \underline{\hspace{1cm}} \quad 5 \times 2 = \underline{\hspace{1cm}}$

$6 \times 2 = \underline{\hspace{1cm}} \quad 7 \times 2 = \underline{\hspace{1cm}} \quad 8 \times 2 = \underline{\hspace{1cm}} \quad 9 \times 2 = \underline{\hspace{1cm}} \quad 10 \times 2 = \underline{\hspace{1cm}}$

③ COMPLETE les cases grisées.



④ ECRIS la réponse.

Au zoo, il y a 9 autruches.

Combien y-a-t-il de pattes en tout ?

Il y a _____ pattes.



Nous avons 5 nouveaux petits poussins.

Combien y-a-t-il de pattes en tout ?

Il y a _____ pattes.

J'ai 7 pièces de 2€ dans ma tirelire.

Cela fait _____ €

